

# انٹرنس ٹسٹ برائے داخلہ فاصلاتی بی۔ ایڈ پروگرام (اردو میڈیم) مئی 2018

Entrance Test for Distance Mode

B.Ed. Programme (Urdu Medium) May 2018

وقت : 2 گھنٹے Time: 2 Hours

نشانات : 100 Marks

## ضروری ہدایات

نوٹ: یہ کتابچہ دو حصوں پر مشتمل ہے۔ حصہ 'الف' اور حصہ 'ب'۔

حصہ الف میں دو سیکشن ہیں۔ I- عمومی انگریزی (General English) II- عمومی اردو (General Urdu)

اور حصہ 'ب' میں تین سیکشن ہیں III- عمومی آگاہی (General Awareness) IV- منطقی و تجزیاتی استدلال (Logical and Analytical Reasoning) اور V- تدریس۔ اکتساب اور اسکول (Teaching - Learning & School)

اس کتابچہ میں کل 100 معروضی سوالات دیئے گئے ہیں جنہیں دو گھنٹوں میں مکمل کرنا ہوگا۔

جوابی شیٹ (OMR) میں جوابات کو درج کرنے کا طریقہ:

1- تمام جوابات سے متعلقہ دائروں کو گہرا کرنے کے لیے صرف اور صرف Blue یا Black بال پائنٹ پن (Blue or Black Ball Point Pen) کا ہی استعمال کریں۔

2- ہر سوال کے لیے چار جوابات دیئے گئے ہیں A, B, C, D میں آپ سوال کا مناسب جواب منتخب کر کے متعلقہ دائرہ میں پن (Pen) کی مدد سے گہرا کیجئے۔ مثال: فرض کیجئے کہ سوال نمبر 1 کا صحیح جواب 'B' ہے۔ جوابی شیٹ (OMR) پر اس طرح دائرہ میں گہرا کیا جائے گا۔

Q. No. 1	A	B	C	D
Answer	<input type="radio"/>	<input checked="" type="radio"/>	<input type="radio"/>	<input type="radio"/>

3- جوابی شیٹ پر کوئی غیر ضروری لفظ نہ لکھیں۔

4- مشکوک اور غیر واضح جوابات کے لیے کریڈٹ نہیں دیا جائے گا۔

5- اس بات کا خاص دھیان رکھیں کہ آپ کے امتحان ہال کے نگراں کار (Invigilator) بھی OMR شیٹ پر فراہم کردہ جگہ پر دستخط کریں۔

6- امیدوار کو امتحان ہال میں کسی طرح کے کاغذات، سیل فون، پروگرامبل کیا کلو لیٹرز یا اشیاء لانے کی اجازت نہیں ہوگی۔

7- اس کتابچے پر امیدوار اپنا ہال ٹکٹ نمبر لکھ سکتے ہیں۔ اس کے علاوہ ضروری Rough Work صرف کتابچے کے آخر میں مہیا کیے گئے سادہ صفحات پر ہی کیجئے۔

8- امیدوار کو امتحان ہال میں کسی بھی شخص یا امیدوار سے کسی بھی طرح کی بات کرنے کی اجازت نہیں ہوگی۔

9- امتحان ہال سے امتحان کے ختم ہونے تک کسی بھی امیدوار کو باہر نکلنے کی اجازت نہیں ہوگی۔

10- منفی نشانات (Negative Marks) نہیں ہوں گے۔

11- امیدوار اپنا ہال ٹکٹ OMR Sheet میں نمبر دیے گئے Boxes میں صحیح درج کریں غلط اور نامکمل لکھے ہوئے ہال ٹکٹ نمبر پر غور نہیں کیا جائے گا اور اس کے ذمہ دار خود امیدوار ہوں گے۔

## Part - A (الف)

### Section (I) General English - عمومی انگریزی

1. My friend ..... the answer to the question.  
 (A) is know (B) know  
 (C) knowing (D) knows
2. Don't worry. I ..... be here to help you.  
 (A) not (B) shall  
 (C) willn't (D) won't
3. Unfortunately the driver ..... the red light.  
 (A) didn't saw (B) didn't see  
 (C) no saw (D) saw not
4. I really enjoyed the disco. It was great, .....?  
 (A) is it (B) isn't it  
 (C) was it (D) wasn't it
5. Sharuk ..... ill for three weeks. He's still in hospital.  
 (A) had been (B) has been  
 (C) is (D) was
6. Haseeb is studying in ..... university.  
 (A) a (B) an  
 (C) the (D) No article
7. Look at ..... traffic.  
 (A) a (B) an  
 (C) the (D) No article
8. This is ..... car I bought yesterday.  
 (A) a (B) an  
 (C) the (D) No article
9. What is the time ..... your watch.  
 (A) by (B) in  
 (C) of (D) at

10. Look carefully ..... the purse.  
 (A) in (B) into  
 (C) through (D) No preposition
11. I've got a meeting ..... Friday afternoon.  
 (A) at (B) in  
 (C) on (D) to
12. Check your bag ..... you leave.  
 (A) before (B) when  
 (C) or (D) and
13. He understands Urdu ..... she cannot read it.  
 (A) but (B) and  
 (C) or (D) before
14. My parents have been married ..... 25 years.  
 (A) ago (B) already  
 (C) for (D) since
15. Hyderabad is one of the ..... cities of India.  
 (A) big (B) bigger  
 (C) biggest (D) larger

### (Section - II)

### عمومی اردو - General Urdu

16. لفظ 'عالم' کی جمع

(A) عالمہ

(B) علماؤں

(C) علما

(D) علوم

17. اردو حرف 'ب' کہلاتا ہے۔

(A) اعراب

(B) مصوتہ

(C) حرف سببی

(D) مصمتہ

18. شاعری میں استعمال ہونے والا شاعر کا مختصر قلمی نام کہلاتا ہے۔  
 (A) عرف  
 (B) خطاب  
 (C) لقب  
 (D) تخلص
19. ایک چیز کو دوسری چیز کے ساتھ مشابہہ قرار دینے کو کہتے ہیں۔  
 (A) کنایہ  
 (B) تلمیح  
 (C) تشبیہ  
 (D) اشارہ
20. شب کی ضد ہے۔  
 (A) دن  
 (B) روز  
 (C) صبح  
 (D) یوم
21. یوم کی جمع ہے۔  
 (A) یومین  
 (B) ایام  
 (C) یوماں  
 (D) ایوم
22. دو ہم وزن مصرعے کہلاتے ہیں۔  
 (A) قافیہ  
 (B) ردیف  
 (C) شعر  
 (D) بحر
23. اردو زبان کے حروف تہجی کی کل تعداد ہے۔  
 (A) 37  
 (B) 35  
 (C) 52  
 (D) 24
24. 'ترانہ ہندی' کے خالق ہیں۔  
 (A) حالی  
 (B) چکبست  
 (C) اقبال  
 (D) جوش
25. عادل کے معنی ہیں۔  
 (A) نانصافی کرنے والا  
 (B) فساد کرنے والا  
 (C) دلیل کرنے والا  
 (D) انصاف کرنے والا
26. جملے کے کس حصہ میں غلطی ہے۔  
 پہاڑی سے بہت لوگ اتر آیا
- 1 2 3 4

2 (B)

1 (A)

4 (D)

3 (C)

27. درخواست کے معنی کیا ہیں؟

(B) مشورہ

(A) حکم

(D) غلطی

(C) گزارش

28. درج ذیل کس لفظ میں لاحقہ استعمال ہوا ہے؟

(B) خط نویس

(A) بے مروت

(D) غیر واجب

(C) لاحقہ

29. درج ذیل میں ضمیر کی نشاندہی کیجیے۔

(B) کبھی

(A) کنواں

(D) دو

(C) وہیں

30. ذیل میں سے کون مشتق لفظ نہیں ہے۔

(B) تدریس

(A) درسیات

(D) کتاب

(C) مدارس

## Part - B (ب)

### Section - III

#### عمومی آگاہی - General Awareness

31. جسٹس راجندر سچر جن کا حال ہی میں انتقال ہوا ہے۔ کس ہائیکورٹ سے تعلق رکھتے تھے؟

(B) دہلی

(A) کولکتہ

(D) ممبئی

(C) مدراس

32. موجودہ لیکن کمیشن میں الیکشن کمشنروں کی جملہ تعداد۔

(B) تین

(A) دو

(D) چار

(C) ایک

- 33 ماونٹ ایورسٹ پر چڑھنے والی پہلی خاتون  
 (A) میری جوز پیریک (Marie Jose Percec)  
 (B) فلورنس گریفتھ (Florence Griffith)  
 (C) جنکو تابی (Junko Tabei)  
 (D) جیکی جوانیر (Jackie Joyner)
- 34 درج ذیل کون سا ملک OPEC کا رکن نہیں ہے۔  
 (A) الجیریا  
 (B) انڈونیشیا  
 (C) ملیشیا  
 (D) نائجیریا
- 35 آئینی دفعہ 370 کا اس ریاست پر اطلاق ہوتا ہے۔  
 (A) ناگالینڈ  
 (B) میزورم  
 (C) منی پور  
 (D) جموں و کشمیر
- 36 IMF '2018 کے World Economic Outlook کے مطابق عالمی معیشت میں ہندوستان کا مقام ہے۔  
 (A) دسواں  
 (B) چھٹا  
 (C) آٹھواں  
 (D) گیارہواں
- 37 اس ملک کو ”آدھی رات“ کے سورج کی زمین“ (Land of Midnight Sun) کہا جاتا ہے۔  
 (A) سویڈن  
 (B) ناروے  
 (C) سویٹزر لینڈ  
 (D) ڈنمارک
- 38 عالمی سال برائے خواتین منایا گیا۔  
 (A) 1975  
 (B) 1979  
 (C) 1981  
 (D) 1983
- 39 اقوام متحدہ کی صیانتی کونسل کے غیر مستقل ارکان کا انتخاب اتنی مدت کے لیے ہوتا ہے۔  
 (A) ایک سال  
 (B) دو سال  
 (C) تین سال  
 (D) چھ سال
- 40 کامن ویلتھ گیمس 2018 اس شہر میں منعقد ہوئے۔  
 (A) گلوسگو  
 (B) بروسلز  
 (C) گولڈ کوسٹ  
 (D) سڈنی

- 41 مرکز برائے سائنس اور ماحولیات (Centre for Sciences and Environment) کا ہیڈ کوارٹر کہاں واقع ہے؟
- (A) اودے پور (B) جھانسی  
(C) پٹنہ (D) نئی دہلی
- 42 کیرالا کے موجودہ چیف جسٹس ہیں۔
- (A) کے ٹی کونٹی (B) ارجیت پساویت  
(C) نویتی پرساد سنگھ (D) انٹونی ڈومنگ
- 43 مارچ 2018 میں راجستھان میں وزیراعظم نے پوشن ابھیان (Poshan Abhyan) کو متعارف کیا۔ پوشن ابھیان اسکیم کا تعلق ہے۔
- (A) تعلیم (B) زراعت  
(C) غذا (D) ماحولیاتی تحفظ
- 44 2020 اولمپک گیمس یہاں منعقد ہوں گے۔
- (A) ٹوکیو (B) پیرس  
(C) لاس اینجلس (D) برازیل
- 45 ہندوستان کی پہلی بولٹی فلم تھی۔
- (A) راجہ ہریش چندر (B) چندر لیکھا  
(C) عالم آرا (D) دیوداس
- 46 درج ذیل کس شخصیت نے بھارت رتن اور نشان پاکستان دونوں ایوارڈ حاصل کیے۔
- (A) لال بہادر شاستری (B) اے پی جے عبدالکلام  
(C) مرارجی دیسائی (D) ایوب خاں
- 47 درج ذیل کون سی نوبل گیسس فضا میں نہیں پائی جاتی؟
- (A) آرگن (Argon) (B) کریپٹن (Krypton)  
(C) ریڈان (Radon) (D) زینان (Xenon)
- 48 2011 کی مردم شماری کے مطابق ہندوستان کی جملہ آبادی ہے۔
- (A) 121 کروڑ (B) 125 کروڑ  
(C) 102 کروڑ (D) 117 کروڑ

- 49 2011ء کی مردم شماری کے مطابق ہندوستان کی سب سے زیادہ آبادی والی ریاست ہے۔  
 (A) مہاراشٹرا (B) اتر پردیش  
 (C) مغربی بنگال (D) مدھیہ پردیش
- 50 پارلیمنٹ میں زیر گھنٹہ (Zero Hour) کی اعلیٰ ترین وقفہ کی حد کیا ہو سکتی ہے؟  
 (A) 30 منٹ (B) ایک گھنٹہ  
 (C) دو گھنٹے (D) غیر محدود وقفہ
- 51 سارک (SAARC) کا مستقل ہیڈ کوارٹر کہاں واقع ہے؟  
 (A) تھمپو (B) ڈھاکہ  
 (C) کھٹمنڈو (D) نئی دہلی
- 52 درج ذیل کون سا جوڑ صحیح ہے۔  
 (A) ٹیٹانوس - BCG (B) دق - ATS  
 (C) ملیریا - کلوروکوئین (D) اسکروئی (Scurvy) - تھیامین
- 53 عرصہ دراز سے منتظر ”اب سیٹو“ (Ibsetu) دریائی برج کو عوام کے لیے حال ہی میں کھول دیا گیا۔ اب سیٹو کس ریاست میں واقع ہے  
 (A) اوڈیشہ (B) جھارکھنڈ  
 (C) بہار (D) گجرات
- 54 عالمی یوم ثقافت (World Heritage Day) ہر سال کس دن منایا جاتا ہے؟  
 (A) 18 اپریل (B) 21 جنوری  
 (C) 25 جون (D) 19 نومبر
- 55 درج ذیل میں کون نوبل انعام یافتہ نہیں ہیں؟  
 (A) رابندر ناتھ ٹیگور (B) مدرٹریا  
 (C) ڈاکٹر ذاکر حسین (D) امرتیا سین



## (Section IV)

## (Logical and Analytical Reasoning) منطقی و تجزیاتی

56- مندرجہ ذیل سلسلہ میں ؟ کی جگہ پر کیا آنا چاہیے۔

AD, EH, IL, ? , QT

MN	(B	LM	(A
OM	(D	MP	(C

57- دی گئی تسلسل میں خالی جگہ پر کون سے حروف آئیں گے۔

adb - ac - da - cddeb - dbc - cbda

cbbaa	(B	bccba	(A
bbcad	(D	ccbba	(C

58- مکعب اور مکعب نما کا تعلق اسی طرح کا ہے جیسے کہ مربع کا..... سے

مثالث	(B	مستطیل	(A
نقطہ	(D	خطہ	(C

59 امن: افراتفری :: تخلیق

تباہی	(B	بنانا	(A
تعمیراتی	(D	تعمیر	(C

60 ذہن : جسم

سی پی یو : ہارڈ ڈسک	(B	ہوا : پانی	(A
سافٹ ویئر : کمپیوٹر	(D	جہاز : تیل	(C

61 مندرجہ ذیل میں سے مختلف لفظ پہچانیے۔

ڈپازٹ (Deposit)	(B	ڈیبٹ (Debit)	(A
انحلاء (Withdrawal)	(D	کٹوتی (Deduction)	(C

62 مندرجہ ذیل میں مختلف لفظ پہچانیے۔

- |          |           |
|----------|-----------|
| (A) ماں  | (B) بہن   |
| (C) دوست | (D) بھائی |

63 مندرجہ ذیل میں مختلف لفظ پہچانیے۔

- |                     |                     |
|---------------------|---------------------|
| (A) مثلث (Triangle) | (B) دائرہ (Circle)  |
| (C) انڈا کار (Oval) | (D) بیضوی (Ellipse) |

64 F جو ہے وہ A کا بھائی ہے۔ C جو ہے وہ A کی بیٹی ہے۔ K جو ہے وہ F کی بہن ہے اور G جو ہے وہ C کا بھائی ہے تو G کا چچا کون ہے۔

- |       |       |
|-------|-------|
| (A) C | (B) A |
| (C) K | (D) F |

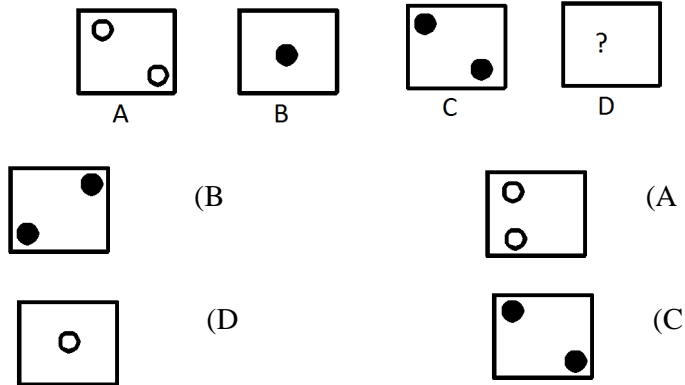
65 ایک لڑکی نے ایک لڑکے کا تعارف ایسے پیش کیا۔ میرے چچا کے ابا کی بیٹی کا بیٹا۔ لڑکا لڑکی کا ..... تھا۔

- |                   |                      |
|-------------------|----------------------|
| (A) چچا           | (B) بھتیجا           |
| (C) چچا زاد بھائی | (D) پھوپھی زاد بھائی |

66 A جو ہے وہ B کا بیٹا ہے۔ C جو ہے وہ A کی بیٹی ہے۔ D جو ہے وہ C کی ماں ہے۔ تو D جو ہے وہ B کی ..... ہے

- |            |          |
|------------|----------|
| (A) بیٹی   | (B) بہو  |
| (C) بھانجی | (D) پوتی |

67 A اور B میں جو تعلق ہے وہی تعلق C اور D میں بھی ہے۔



68 کون سا خا کہ ا لگ ہے۔

A	E	N	Z
1	2	3	4

2 (B 1 (A

4 (D 3 (C

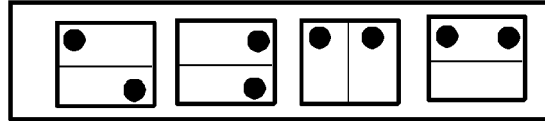
69 کون سا خا کہ ا لگ ہے۔

∠	∟	∩	∪
1	2	3	4

2 (B 1 (A

4 (D 3 (C

70 کون سا خا کہ ا لگ ہے۔



2 (B 1 (A

4 (D 3 (C

71 انگریزی حروف کی بنیاد پر جواب دیجیے۔

A, C, F, ?, )

H (B K (A

I (D J (C

72 HI, JI, KL, ML, NO, ?

PQ (B PO (A

QO (D OP (C

CBA, WVU, IHG, TSR, .....? 73

MON	(B	NOM	(A
NMO	(D	ONM	(C

74 گھڑی میں 4:30 بج رہے ہیں اگر منٹ کا کائنا مشرق کی طرف ہے تو گھنٹے کا کائنا کس طرح ہوگا؟

جنوب مشرق	(B	شمال مغرب	(A
شمال مشرق	(D	شمال	(C

75 اکبر صبح سورج نکلنے کے بعد راستے پر چل رہا تھا۔ اس کا سایہ بائیں طرف پڑ رہا تھا۔ وہ کس جانب چل رہا تھا؟

شمال	(B	مشرق	(A
جنوب	(D	مغرب	(C

76 اگر 15 اگست پیر کے روز آتا ہے تو 17 نومبر کس روز ہوگا۔

منگل	(B	پیر	(A
جمعرات	(D	بدھ	(C

77 اگر 21 جنوری 2016 جمعرات کو آیا تھا تو 13 مارچ 2016 کس روز تھا؟

بدھ	(B	پیر	(A
اتوار	(D	منگل	(C

78 A کو B سے زیادہ نمبر ملے۔ C اور D کو یکساں نمبر ملے۔ E کو F سے کم نمبر ملے۔ B نے C سے زیادہ نمبر لیے۔ F نے D سے کم نمبر لیے۔ کس نے سب سے کم نمبر لیے۔

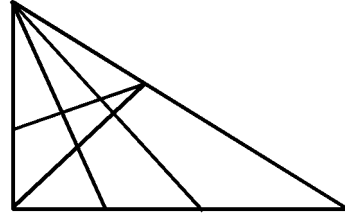
C	(B	F	(A
B	(D	E	(C

79 اس سلسلے میں کون سا نمبر آئے گا۔

V, VIII, XI, XIX, ? XX

XVIII	(B	XIX	(A
XVII	(D	XVI	(C

اس خاکہ میں کتنے مثلث ہیں: 80



- 24 (B) 20 (A)  
26 (D) 22 (C)

### (Section - V)

### تدریس - اکتساب اور اسکول

### Teaching - Learning and School

- 81 درج ذیل کس کا تعلق تدریسی مہارت سے ہے؟  
(A) تختہ سیاہ پر لکھنا  
(B) سوالات کو حل کرنا  
(C) سوالات پوچھنا  
(D) اوپر کے تمام
- 82 یشپال کمیٹی (1993) کی رپورٹ کا نام  
(A) ICT in Teacher Education  
(B) Learning without Burden  
(C) Learning through Broadcasting  
(D) Education for All
- 83 اسکول کا مپلکس کے تصور کو سب سے پہلے اس ریاست نے لاگو کیا۔  
(A) اتر پردیش  
(B) مدھیہ پردیش  
(C) بہار  
(D) راجستھان
- 84 معلم کا برتاؤ ہونا چاہیے۔  
(A) انتظامی  
(B) ہدایتی  
(C) مثالی  
(D) رہنمائی

- 85 طلباء کے ناپسندیدہ برتاؤ کی اصلاح کے لیے درج ذیل طریقہ موثر ثابت ہوگا۔  
 (A) طلباء کو سزا دینا (B) والدین کو اطلاع دینا  
 (C) اس قسم کے برتاؤ کے اسباب کا پتہ لگانا اور اس کا حل فراہم کرنا (D) نظر انداز کرنا
- 86 CAI کی توسیع شدہ شکل  
 (A) Characteristic of Assistant Instructor (B) Computer Assisted Instruction  
 (C) Community Assisted Instruction (D) Centrally Assisted Instruction
- 87 اسکول انتظامیہ کی ذمہ داری عائد ہوتی ہے۔  
 (A) پرنسپل (B) اساتذہ  
 (C) مینیجر (D) اوپر کے تمام
- 88 بچوں کے اسکول سے غائب رہنے اور بھاگ جانے کی وجہ۔  
 (A) نصاب کا دلچسپ نہ ہونا (B) طریقہ تدریس ناموزوں ہونا  
 (C) معلم کا نا اہل ہونا (D) اوپر کے تمام
- 89 10+2+3 نظام تعلیم کی سفارش اس کمیٹی نے پیش کی۔  
 (A) کوٹھاری کمیشن (B) مدالیار کمیشن  
 (C) رادھا کرشنن کمیشن (D) قومی تعلیمی پالیسی 1986
- 90 طلباء اس استاد کو زیادہ پسند کرتے ہیں۔  
 (A) جاذب شخصیت کا مالک ہو (B) ان کے ذاتی / قبیلہ سے تعلق رکھتا ہو  
 (C) جو دل کھول کر نبرات دیتا ہو (D) جو اپنے مضمون پر اچھا عبور رکھتا ہو
- 91 نکلنا لوجی کی ترقی سے مستقبل میں ٹیچر کا کردار ہوگا۔  
 (A) طلباء کو اطلاعات فراہم کرنا (B) نئی نصابی کتابیں تیار کرنا  
 (C) طلباء کی رہنمائی کرنا (D) تدریس میں انٹرنیٹ کا استعمال کرنا
- 92 ایک استاد کے اہم کردار کی شناخت درج ذیل سے کی جاتی ہے۔  
 (A) لیڈر (B) منصوبہ ساز (Planner)  
 (C) مینیجر (D) محرک (Motivator)
- 93 طلباء کو ہوم ورک اس لیے دیا جانا چاہیے۔  
 (A) طلباء کو گھر پر کھیل کود سے روکنے کے لیے (B) طلباء کو مصروف رکھنے کے لیے  
 (C) طلباء کو سزا دینے کے لیے (D) طلباء کی ترقی کا اندازہ لگانے کے لیے

- 94 اگر کوئی طالب علم کلاس کو دیر سے آتا ہو تو ، آپ بحیثیت استاد کیا کریں گے؟  
 (A) نظر انداز کر دیں گے (B) کلاس میں بیٹھنے کی اجازت نہ دیں گے  
 (C) سزا دیں گے (D) اس کو خاموشی سے کلاس میں داخل ہونے اور بیٹھ جانے کی اجازت دیں گے
- 95 آپ کے مطابق ، تعلیم کی اہم غرض کیا ہونی چاہیے۔  
 (A) طلباء کو معلومات فراہم کرنا (B) طلباء کی ہمہ جہت شخصیت کی نشوونما کو فروغ دینا  
 (C) اچھے شہری بنانا (D) سماج کی اصلاح
- 96 یاد کرنے (Memorise) کا سب سے بہترین طریقہ  
 (A) طویل وقت تک مطالعہ کرنا (B) تصورات کو سمجھنا  
 (C) بہ آواز بلند پڑھنا (D) تصورات کو لکھ لینا
- 97 اگر طلباء کمرہ جماعت میں سوالات پوچھتے ہیں ، تو معلم کو چاہیے کہ  
 (A) انہیں مشورہ دیں کہ اسکولی اوقات کے بعد معلم سے ملیں (B) طلباء کے سوالات پوچھنے کی ہمت افزائی کریں  
 (C) طلباء کو کلاس روم میں بحث و مباحثہ میں حصہ لینے کی ترغیب دیں (D) طلباء سے کہیں کہ وہ خود سے سوالات کے جوابات ڈھونڈیں
- 98 موجودہ دور میں تدریس کے لیے سب سے موزوں خیال کیا جاتا ہے۔  
 (A) معلم مرکزیت (B) متعلم مرکزیت  
 (C) سماج مرکزیت (D) نصاب مرکزیت
- 99 'کنڈرگارٹن' سے مراد  
 (A) بچوں کی جگہ (B) بچوں کا گھر  
 (C) بچوں کا اسکول (D) بچوں کے کھیل کا میدان
- 100 معذور بچوں کو تعلیم دینا  
 (A) کوششوں کو ضائع کرنا (B) سماجی ذمہ داری  
 (C) دور حاضر کا نعرہ (D) فطری طور پر میکانیکی

**Rough Work**